

Time: 10 Minutes	Paper Math 2	Total Marks: 10
------------------	--------------	-----------------

6th Month, 2nd Week, 1st Day	Syllabus: Sides and Vertices of the Shape
------------------------------	---

Q.1. Choose the correct option and fill in the blanks. (2.5×4=10)
درست جواب کا انتخاب کریں اور خالی جگہ پُر کریں۔

(i) Rectangle has _____ sides.

مستطیل کے اضلاع ہوتے ہیں۔ _____

(a)	2	(b)	3	(c)	4	(d)	5
-----	---	-----	---	-----	---	-----	---

(ii) Square has _____ vertices.

مربع کے کونے ہوتے ہیں۔ _____





(a)	2	(b)	4	(c)	6	(d)	3
-----	---	-----	---	-----	---	-----	---

(iii) Triangle has _____ sides.

مثلث کے اضلاع ہوتے ہیں۔ _____

(a)	2	(b)	3	(c)	4	(d)	5
-----	---	-----	---	-----	---	-----	---

(iv) The shape of square is: مربع کی شکل ہے: _____

(a)		(b)		(c)		(d)	
-----	--	-----	--	-----	--	-----	--

Time: 10 Minutes	Paper Math 2	Total Marks: 10
------------------	--------------	-----------------

6th Month, 2nd Week, 1st Day	Syllabus: Sides and Vertices of the Shape
------------------------------	---

Q.1. Choose the correct option and fill in the blanks. (2.5×4=10)
درست جواب کا انتخاب کریں اور خالی جگہ پُر کریں۔

(i) Rectangle has _____ sides.

مستطیل کے اضلاع ہوتے ہیں۔ _____

(a)	2	(b)	3	(c)	4	(d)	5
-----	---	-----	---	-----	---	-----	---

(ii) Square has _____ vertices.

مربع کے کونے ہوتے ہیں۔ _____





(a)	2	(b)	4	(c)	6	(d)	3
-----	---	-----	---	-----	---	-----	---

(iii) Triangle has _____ sides.

مثلث کے اضلاع ہوتے ہیں۔ _____

(a)	2	(b)	3	(c)	4	(d)	5
-----	---	-----	---	-----	---	-----	---

(iv) The shape of square is: مربع کی شکل ہے: _____

(a)		(b)		(c)		(d)	
-----	--	-----	--	-----	--	-----	--
